

КЕЙС №3 ЛЕГО- КОНСТРУИРОВАНИЕ

Шишаев Никита Сергеевич




ПРАВИЛЬНО НАЗОВИТЕ ШИРИНУ И ДЛИНУ РАЗЛИЧНЫХ ПЛАСТИН С ПОМОЩЬЮ ЦИФР!!!



1



2



3



4


СМОТРИМ ПРАВИЛЬНЫЕ ОТВЕТЫ!!!




2 на 4



2 на 8



6 на 8



8 на 8

МОЛОДЦЫ

А сейчас внимательно смотрим на следующий слайд и отвечаем на вопросы!!!





1. Что изображено на фотографиях?

2. Как можно решить данную проблему?

3. Что можно сконструировать, чтобы исправить ситуацию?

Сконструируйте постройку, которая исправит данную ситуацию.